


➤ Dijital saatlerde verilen saatleri analog saatlere akrep ve yelkovan çizerek gösteriniz. Saatlerin okunuşlarını altlarına yazınız.


11 : 00




15 : 30



20 : 15




18 : 00



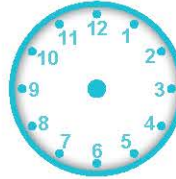
04 : 15




16 : 45



22 : 00



07 : 30



➤ Aşağıdaki saatlerin öğleden önce ve öğleden sonra gösterdiği zamanı yazınız.



Öğleden önce:

Öğleden sonra:



Öğleden önce:


Öğleden sonra:




Öğleden önce:

Öğleden sonra:


➤ Aşağıdaki saatlere istenilen zamanlara göre akrep ve yelkovan çiziniz.



30 dakika önce



14 : 00



30 dakika sonra

➤ Aşağıda verilen cümlelerdeki boşlukları doldurunuz.

▶ Bir yıl aydır.

▶ Bir yıl mevsimdir.

▶ Bir yıl haftadır.

▶ Bir yıl gündür.

▶ Bir saat dakikadır.

▶ Bir dakika saniyedir.

▶ Bir hafta gündür.

▶ Bir gün saattir.