

A. Aşağıdaki haritayı inceleyelim. Soruları cevaplandıralım.



1. İstanbul - Ankara arası kaç km'dir?

5. Hatay'dan Ankara'ya ve oradan da Sinop'a giden bir otobüs kaç km yol gitmiştir?

2. Ankara - Van arası kaç km'dir?

6. İzmir'den Ankara'ya oradan da İstanbul'a giden bir kamyon kaç km yol gitmiştir?


3. Ankara - Hatay arası kaç km'dir?

4. Ankara - Rize arası kaç km'dir?


7. Rize'den Ankara'ya gidip geri dönen otomobil kaç km yol gitmiştir?

B. Aşağıdaki dönüşümleri işlem yaparak çevirelim.


a. 3 000 m = ..... km



b. 6 000 m = ..... km




c. 9 000 m = ..... km




d. 10 000 m = ..... km




e. 18 000 m = ..... km



f. 30 000 m = ..... km




g. 57 000 m = ..... km



h. 73 000 m = ..... km



i. 99 000 m = ..... km



1. I. 1 250 m = 1 km 250 m

II. 4 023 m = 40 km 23 m

III. 7 408 m = 7 km 408 m

IV. 9 004 m = 90 km 4 m

Yukarıdaki dönüşümlerden hangileri doğrudur?

A. I - II

B. I - III

C. II - III

D. II - IV

2. I. 2 km 70 m = 2 700 m

II. 6 km 6 m = 6 060 m

III. 3 km 300 m = 3 300 m

IV. 8 km 47 m = 8 047 m

Yukarıdaki dönüşümlerden hangileri yanlıştır?

A. I - II

B. II - III

C. III - IV

D. I - IV

3. a. 14 070 m     △ . 14 km 7 m

b. 14 000 m     ○ . 14 km 700 m

c. 14 700 m     ☆ . 14 km 70 m

d. 14 007 m     □ . 14 km

Yukarıdakileri eşleştirdiğimizde hangisi doğru olur?

A. △     ○     ☆     □  
A. d     c     a     b

B. c     d     a     b

C. d     a     b     c

D. c     a     b     d

4. "3 km - 275 m"

Yukarıdaki işlemin sonucu kaçtır?

A. 25

B. 6 25

C. 2 625

D. 2 725