

Adı / Soyadı:

Aldığı Puan :

3.Sınıflar HKS-10

...: HAFTALIK KONTROL SINAVI ...

[2014-2015]

TÜRKÇE

1- Cümleleri oluştukları sözcük sayılarıyla eşleştiriniz. (4 p)

→Kütüphaneye gittim.

1

→Kitabın üç sayfasını okudum.

2

→Başaracağım.

4

→Annem iki tane limon kesti.

5

2- Cümleleri bildirdikleri özellikleri ile eşleştiriniz. (4 p)

a. Okulumuza müfettişler geldi.

Duygu

b. Annemi çok seviyorum.

Düşünce

c. Düzce güzel bir şehirdir.

Haber

d. Çantamı bana verebilir misin?

İstek

3- Cümlelerdeki boşlukları uygun sözcüklerle doldurunuz. (4 P)

a. Kardeşini bulamadığı için dönemiyordu.

kızla

b. Bu pencereli bir kulübeydi.

küçük

c. Küçük kardeşini arıyordu.

kazlar

d. üstlerinden uçup gittiler.

eve

4- Aşağıdaki sözcük gruplarından cümle olanlara "+", olmayanlara "-" işareti koyunuz. (5 p)

❖ Marketten aldığım domatesler.

❖ Her akşam yatmadan önce dualar okurum.

❖ Saatimin camı kırılınca çok üzüldüm.

❖ Kardeşimi hastaneye.

❖ Geldim.

5- Aşağıda verilen cümlelerdeki gereksiz sözcüklerin altını çiziniz. (4 p)

✓ Size gelmeyi çok istiyorum ama fakat annem izin vermiyor.

✓ Bu ihtiyar yaşlı adam oldukça hasta görünüyor.

✓ Öğretmenin Ahmet'e söylediklerini kulağımla işittim.

✓ Ali yüksek sesle bağırdığı için babası rahatsız olmuş.

6-

*Bir varmış bir yokmuş.
Karabaş adında akıllı bir köpek varmış. Karabaş'ın evi yokmuş. O, bir gün; "Kış yaklaşıyor. Soğuklar başlamadan bir ev yapayım." demiş.*



Yukarıdaki parçaya göre aşağıdakilerden hangisi Karabaş'a ait özelliklerden biri değildir? (4 p)

A. Evi yokmuş.

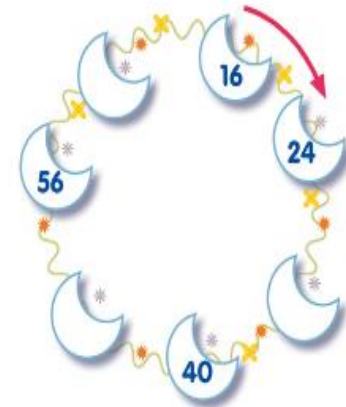
B. Akıllı bir köpekmiş.

C. Kışın yaklaşmasından korkuyormuş.

D. Ev yapmayı düşünüyormuş.

MATEMATİK

7- Aşağıda verilen örüntülerde boş bırakılan yerleri doldurunuz. (11 p)





8- Yukarıdaki ürün fiyatlarına göre aşağıdaki soruları cevaplandırınız. (4 p)

- En büyük çift sayı
- En büyük tek sayı
- En küçük tek sayı
- En küçük çift sayı

9- Aşağıdaki örüntülerde boş bırakılan yerleri tamamlayınız. (5 p)

| | | | | | | | |
|----|----|----|----|--|----|----|----|
| 17 | 22 | 27 | 32 | | 42 | 47 | 52 |
|----|----|----|----|--|----|----|----|

| | | | | | | | |
|----|----|----|----|----|----|--|----|
| 34 | 37 | 36 | 39 | 38 | 41 | | 43 |
|----|----|----|----|----|----|--|----|

| | | | | | | | |
|----|----|----|----|--|----|----|----|
| 14 | 21 | 28 | 35 | | 49 | 56 | 63 |
|----|----|----|----|--|----|----|----|

| | | | | | | | |
|----|----|----|----|----|--|----|----|
| 16 | 19 | 23 | 28 | 34 | | 49 | 58 |
|----|----|----|----|----|--|----|----|

| | | | | | | | |
|----|----|----|----|----|----|--|----|
| 25 | 20 | 30 | 25 | 35 | 30 | | 35 |
|----|----|----|----|----|----|--|----|

10- Aşağıda verilen Romen rakamlarının karşısına uygun doğal sayıları yazınız. (5 p)

XIV =

XVI =

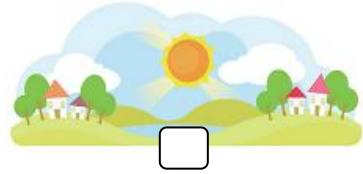
XIX =

XX =

IV =

FEN BİLİMLERİ

11- Aşağıdaki ortamlardan çevremizi net gördüklerimize (+), iyi görmediklerimize (-) işareti yazınız. (6p)



Karanlık oda

Tünelin içi

12- Aşağıda verilen aydınlatma araçlarını kullandıkları yerlerle eşleştiriniz. (6p)



1



Yolların, cadde ve sokakların aydınlatılması için kullanılır.



2



Stadyum aydınlatılmasında



Stadyum




3



Işık saçarak geceleri gemilere yol gösterir.



4



Yol


Gece yolda giderken aydınlatmak için.



5



Karanlık mağaraların aydınlatılmasında kullanılır.



6



Evlerde salonun aydınlatılması için kullanılır.

13- Aşağıdaki ifadelerden doğru olanların başına "D", yanlış olanların başına "Y" harfi yazınız. (9p)

| | |
|--------------------------|---|
| <input type="checkbox"/> | Işık olmayan ortamda da etrafımızı iyi görürüz. |
| <input type="checkbox"/> | Varlıkları görebilmemiz için gözümüzden, varlığa ışık gitmelidir. |
| <input type="checkbox"/> | Görme duyu organımız gözdür. |
| <input type="checkbox"/> | Işık miktarı ne kadar fazlaysa, varlıkları o kadar net görürüz. |
| <input type="checkbox"/> | Varlıkları görebilmemiz için ortamda ışık olmalıdır. |
| <input type="checkbox"/> | Loş ışıkta varlıkları daha iyi görürüz. |
| <input type="checkbox"/> | Yeterli miktarda ışık olursa daha net görürüz. |
| <input type="checkbox"/> | Fazla ışık bulunan ortamda göz bebeklerimiz büyür. |
| <input type="checkbox"/> | Işık olmazsa görme olayı gerçekleşmez. |

14- Görme olayının gerçekleşmesi için gerekenlere (+), gerekmeyenlere (-) işareti yazınız. (4p)

| | |
|--------------------------|---|
| <input type="checkbox"/> | Yeterli miktarda ışık |
| <input type="checkbox"/> | Güneş ışınları |
| <input type="checkbox"/> | Sağlıklı göz |
| <input type="checkbox"/> | Varlıklardan yansıyan ışığın gözümüze gelmesi |

HAYAT BİLGİSİ

15- Barınma ihtiyacımızın karşılanmaması durumunda yaşanabilecekleri "+" işareti ile, yaşanmayacakları " - " işareti ile işaretleyiniz. (5p)

| | |
|--------------------------|--|
| <input type="checkbox"/> | Sıcaktan ve soğuktan korunamazdık. |
| <input type="checkbox"/> | Kendimizi güvende hissedemezdik. |
| <input type="checkbox"/> | Dışarıdaki tehlikelerden korunamazdık. |
| <input type="checkbox"/> | Hayatımız tehlikeye girerdi. |
| <input type="checkbox"/> | Sağlıklı bir vücut yapısına sahip olamazdık. |

16- Aşağıdaki ifadelerden doğru olanların başına "D", yanlış olanların başına "Y" harfi yazınız. (5p)

| | |
|--------------------------|--|
| <input type="checkbox"/> | Yuvasız bir canlı tehlikededir. |
| <input type="checkbox"/> | Evimiz, dış tehlikelerden bizi korur. |
| <input type="checkbox"/> | Yuvası olmayan bir canlı güvendedir. |
| <input type="checkbox"/> | Hiç ışık almayan bir ev tercih etmeliyiz. |
| <input type="checkbox"/> | Barınacağı bir yeri olmayan bir insan, her yerde rahat eder. |

17- Aşağıdakilerden hangileri temel ihtiyaçlardandır? Olanlara "+", olmayanlara " - " işareti koyunuz. (6p)

| | | |
|-----------------------------------|-------------------------------------|-------------------------------------|
| su <input type="checkbox"/> | tiyatro <input type="checkbox"/> | telefon <input type="checkbox"/> |
| ekmek <input type="checkbox"/> | hava <input type="checkbox"/> | elbise <input type="checkbox"/> |

18- Aşağıdaki öğrenci ev hayalini hangi yolla anlatmaktadır? (1p)

A. Drama B. Şiir C. Tiyatro



Bir yer düşünüyorum, yemyeşil,
Bilmem, neresinde yurdun.
Bir ev, günlük güneşlik
Çiçekler içinde memnun

19- Evleri ilgili açıklamalarla eşleştiriniz. (4p)



| | |
|--------------------------|--------------------------------|
| <input type="checkbox"/> | Afrika yerlilerinin evi |
| <input type="checkbox"/> | Ülkemizde en çok kullanılan ev |
| <input type="checkbox"/> | Eskimo evi |
| <input type="checkbox"/> | İnsanların ilk evi |

20- Aşağıda bazı canlılar ve barındıkları yerler verilmiştir. Canlılarla barınma yerlerini doğru olarak eşleştiriniz. (4p)



Derslere Göre Puan Dağılımı ve Toplam Puan

| Türkçe | Mat. | Fen | Hyt. Bil. | Toplam |
|--------|------|-----|-----------|--------|
| | | | | |

NOT: Bu kısım öğretmen tarafından doldurulacaktır.