

# CANLILAR DÜNYASINA YOLCULUK

Aşağıdaki görseller ile bu görsellere ait kavramları eşleştirelim.  
Rakamlara denk gelen harfleri şifre kutusuna yazıp şifreyi bulalım.



①

M Doğurarak çoğalır.



②

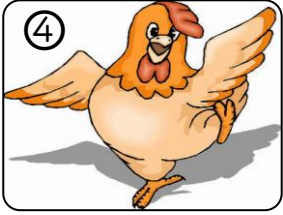
İ Yumutlayarak çoğalır.



③

T Doğal çevre.

R Etle beslenir.



④

E Dişlerimizi çürütür.

V Işık kaynağı.




⑤

Ç Yapay çevre.


E Çevre kirliliği.



⑥



⑦



⑧



⑨



⑩

ŞİFRE :

# BELİRTİLEN KESİR KADARINI BULMA

375 sayısının yan tarafa belirtile kesir kadarını bulunuz.	$\frac{1}{5}$ i	$\frac{2}{5}$ i	$\frac{3}{5}$ i
	 $\begin{array}{r} 375 \quad 5 \\ - 35 \quad 5 \\ \hline 025 \end{array}$	 $75 \times 2 = 150$	 $75 \times 3 = 225$
288 sayısının yan tarafa belirtile kesir kadarını bulunuz.	$\frac{1}{6}$ si	$\frac{3}{6}$ si	$\frac{5}{6}$ si
252 sayısının yan tarafa belirtile kesir kadarını bulunuz.	$\frac{1}{7}$ si	$\frac{4}{7}$ si	$\frac{3}{7}$ si
360 sayısının yan tarafa belirtile kesir kadarını bulunuz.	$\frac{1}{8}$ i	$\frac{2}{8}$ i	$\frac{6}{8}$ i
390 sayısının yan tarafa belirtile kesir kadarını bulunuz.	$\frac{1}{6}$ si	$\frac{4}{6}$ si	$\frac{2}{6}$ si