


GEOMETRİK ŞEKİLLER VE CİSİMLER



Aşağıdaki soruları resme göre cevaplayınız.

1. Piza Kulesi hangi geometrik şekle benzer?

2. Anıtkabir hangi geometrik cisme benziyor?

3. Piramitlerin yüzü hangi şekildedir?

4. Güneş hangi geometrik cisme benzer?

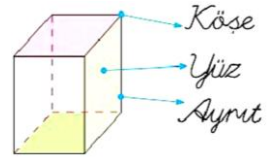
5. İş merkezleri benzer.

6. Eyfel Kulesi benzer.

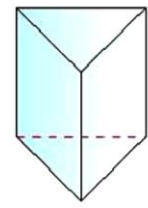
7. Hangilerinin tabanları daire şeklindedir?

GEOMETRİK ŞEKİLLERDE KÖŞE - YÜZ - AYRIT

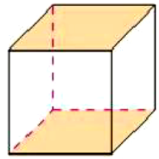
Aşağıdaki geometrik cisimlerin adlarını yazınız. Köşe, yüz ve ayrıtlarını gösteriniz.



Kare prizma



.....



.....

Geometrik şekilleri yüzleri ile eşleştiriniz.

