


4.Sınıf Matematik Zamanı Ölçme Test


ÖĞRENDİKLERİMİZİ UYGULAYALIM 15

1. Aşağıdaki saatlerin üzerinde öğleden önceyi mi, öğleden sonrası mı gösterdiği yazınız. Buna göre altlarındaki sayısal saatleri doldurunuz.

Öğleden önce Öğleden sonra Öğleden önce Öğleden sonra




2. Aşağıdaki sayısal saatlerde gösterilen zamanı kadranlı saatlerde gösteriniz (Akrep ve yelkovan çizerek gösteriniz).



3. Aşağıdaki eşitliklerde noktalı yerleri doldurunuz.

120 saniye = dakika
7 saat 10 dakika = dakika
3 dakika 50 saniye = saniye
2 saat 240 saniye = dakika

4. Esin'in kardeşi Ege 22 Ocak 2005 yılında doğdu. Esin'in doğum tarihi 3 Aralık 1995 olduğuna göre, Kardeşi Esin'den kaç yıl, kaç ay ve kaç gün sonra doğmuştur?



• Esin 18. doğum gününü ne zaman kutlayacak?

• Ege 15 yaşına geldiğinde Esin kaç yaşında olur?

• Aralık ayında Ege'nin doğum günü, Esin'in doğum gününden kaç gün sonra olur?